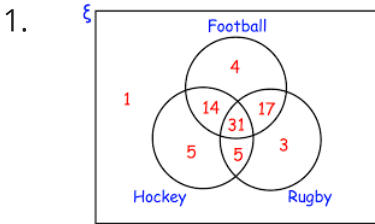


NAME : _____

CLASS : _____

DATE : _____

Feeder School-Entrance Exam
20 Questions



The diagram shows the sports played by 80 students.
चित्र 80 छात्रों द्वारा खेले जाने वाले खेलों को दर्शाता है।

How many students are playing both Hockey and Rugby?
कितने विद्यार्थी हॉकी और रग्बी दोनों खेल रहे हैं?

A 36

B 45

C 5

D 31

2. Pick the odd pair of words.
विषम शब्दों का युग्म चुनिए।

A Wrong : Right
गलत : सही

B Dim : Bright
मंद : उज्ज्वल

C Shallow : Deep
उथला : गहरा

D Genuine : Real
असली : वास्तविक

3. Look at this series: 12, 11, 13, 12, 14, 13, ... What number should come next?

इस श्रंखला को देखें: 12, 11, 13, 12, 14, 13, ... आगे कौन सी संख्या आनी चाहिए?

A 13

B 10

C 15

D 16

4. Pointing to a man in a photograph, Sayali said, "His mother's only daughter is my mother." How is Sayali related to that man?

एक तस्वीर में एक आदमी की ओर इशारा करते हुए, सयाली ने कहा, "उसकी माँ की इकलौती बेटी मेरी माँ है।" सयाली उस आदमी से कैसे संबंधित है?

- | | | | |
|----------------------------|----------------|----------------------------|-----------------|
| <input type="checkbox"/> A | Niece
भांजी | <input type="checkbox"/> B | Nephew
भतीजा |
| <input type="checkbox"/> C | Sister
बहन | <input type="checkbox"/> D | Wife
बीवी |

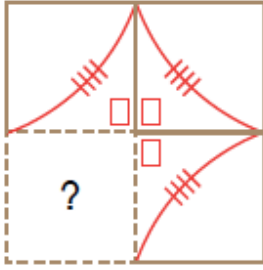
5. Assertion (A): I am giving online entrance exam today.
अभिकथन (A) : मैं आज ऑनलाइन प्रवेश परीक्षा दे रहा हूँ।

Reason (R): I want to take admission in SVSU-FEEDER SCHOOL.
कारण (R): मैं एसवीएसयू-फीडर स्कूल में प्रवेश लेना चाहता हूँ।

Choose the correct answer from below:
नीचे से सही उत्तर चुनें:

- | | | | |
|----------------------------|--|----------------------------|--|
| <input type="checkbox"/> A | A is false but R is true.
A गलत है लेकिन R सत्य है। | <input type="checkbox"/> B | Both A and R are true and R is the correct explanation of A.
A और R दोनों सही हैं और R, A की सही व्याख्या करता है। |
| <input type="checkbox"/> C | A is true but R is false.
A सत्य है लेकिन R गलत है। | <input type="checkbox"/> D | Both A and R are true and R is not the correct explanation of A.
A और R दोनों सही हैं और R, A की सही व्याख्या नहीं करता है। |

6. Which image will fit best to complete the design.



डिजाइन को पूरा करने के लिए कौन सी छवि सबसे उपयुक्त होगी।

A



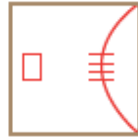
B



C



D



7. Find the value of the following?

$$1 + \frac{1}{1 + \frac{1}{1 + \frac{1}{1 + 1}}}$$

निम्न का मान ज्ञात कीजिए?

A

$$\frac{4}{3}$$

B

$$1$$

C

$$\frac{8}{5}$$

D

$$\frac{1}{2}$$

8. The distance between Gurugram and Palwal is 55 km. If you start your journey from Gurugram by car with a speed of 30 km/hr. How much time you take to reach Palwal?

गुरुग्राम और पलवल के बीच की दूरी 55 किमी है। अगर आप गुरुग्राम से अपनी यात्रा कार से 30 किमी/घंटा की रफ्तार से शुरू करते हैं। पलवल पहुंचने में आपको कितना समय लगेगा?

A

More than 2 hrs/ 2 घंटे से ज्यादा

B

in 2 hrs/ 2 घंटे

C

Less than 2 hrs/ 2 घंटे से कम

D

None of these/ इनमें से कोई नहीं

9. नौ, दो __ होना

A

बारह

B

दस

C

ग्यारह

D

तेरह

10. मैं प्रवेश परीक्षा दे रहा हूँ | ये कौन-सा काल है ?

A इनमें से कोई नहीं

B वर्तमानकाल

C भविष्यकाल

D भूतकाल

11. Fill in the Blank.

She has _____ her assignment

A completes

B completed

C complete

D had completed

12. **The train _____ the station before they arrived.**

A has left

B have left

C left

D had left

13. He is taller than

A ourself

B me

C mine

D myself

14. Choose the figure which is different from the rest.



उस आकृति का चयन कीजिए जो शेष से भिन्न है।

A 2

B 3

C 4

D 1

E 5

15. IT stands for

IT का अर्थ है

A Information Technology

B Integrated Technology

C Internet Things

D Invert Thing

16. Green revolution increased the production of..?

हरित क्रांति ने उत्पादन बढ़ाया..?

A Food Grains / अनाज

B Coal / कोयला

C Fish / मछली

D Milk / दूध

17. Who is current governor of Haryana?

हरियाणा के वर्तमान राज्यपाल कौन हैं?

A Shri Satyadev Narayan Arya/ श्री सत्यदेव नारायण आर्य

B Shri Bandaru Dattatreya/ श्री बंडारू दत्तात्रेय

C Prof. Kaptan Singh Solanki/ प्रो. कप्तान सिंह सोलंकी

D None of these/ इनमें से कोई नहीं

18. You visit your aunt's house and you see that a kitchen cabinet is broken. What would you do in that situation?

आप अपनी मौसी के घर जाते हैं और आप देखते हैं कि एक किचन कैबिनेट टूटा हुआ है। उस स्थिति में आप क्या करेंगे?

Assist your cousin in dealing with the cabinet by searching solution on the internet.

A इंटरनेट पर समाधान खोज कर कैबिनेट से निपटने में अपने भाई की सहायता करेंगे ।

Call up a professional to fix the cabinet up.

B कैबिनेट को ठीक करने के लिए किसी पेशेवर को बुलाएँगे

Try finding tools in her store room to fix the broken cabinet.

C टूटे हुए कैबिनेट को ठीक करने के लिए उसके स्टोर रूम में उपकरण खोजने का प्रयास करेंगे ।

Inform your aunt about the broken cabinet so that she can take care of it.

D अपनी मौसी को टूटी हुई कैबिनेट के बारे में सूचित करें ताकि वह उसकी देखभाल कर सके ।

19. You look at a craft showpiece and wish to have a similar one in your room for decoration. What would you do in that situation?

आप एक शिल्प शो पीस को देखते हैं और चाहते हैं कि सजावट के लिए आपके कमरे में भी ऐसा ही हो। उस स्थिति में आप क्या करेंगे?

A Admire it's beauty and appreciate the craftsman who made it. इसकी सुंदरता की प्रशंसा करें और इसे बनाने वाले शिल्पकार की सराहना करें।

B Ask your parents to buy it to you on your birthday. जन्मदिन पर इसे खरीदने के लिए कहें।

C Collect your pocket money and buy it in a few months. अपनी पॉकेट मनी लीजिए और कुछ महीनों में खरीद लीजिए।

D Ask your parents to help you get raw material so that you could try to create a similar model and improvise it in your own way. अपने माता-पिता से कच्चा माल प्राप्त करने में आपकी मदद करने के लिए कहें ताकि आप एक समान मॉडल बनाने की कोशिश कर सकें और इसे अपने तरीके से सुधार सकें।

20. How do you feel about skill workers (ex. plumbers, mechanics, electricians etc.) getting lower salaries than other jobs (ex. Corporate jobs)?

कौशल श्रमिकों (जैसे प्लंबर, मैकेनिक्स, इलेक्ट्रीशियन आदि) को अन्य नौकरियों (जैसे कॉर्पोरेट जॉब्स) की तुलना में कम वेतन मिलने के बारे में आप कैसा महसूस करते हैं?

A Feel okay because jobs related to skill are menial and not important. अच्छा महसूस करते हैं क्योंकि कौशल से संबंधित कार्य छोटे होते हैं और महत्वपूर्ण नहीं।

B Feel like it is unfair because skill workers have an important role in our daily activities and lucrative functioning of daily city life.

ऐसा महसूस करते हैं कि यह अनुचित है क्योंकि कौशल श्रमिकों की हमारी दैनिक गतिविधियों और दैनिक शहरी जीवन के आकर्षक कामकाज में महत्वपूर्ण भूमिका होती है।

C None of the above. उपरोक्त में से कोई नहीं।

D Feel okay because acquiring skill is comparatively easier than working in an MNC.

ठीक महसूस करते हैं क्योंकि बहुराष्ट्रीय कंपनी में काम करने की तुलना में कौशल हासिल करना तुलनात्मक रूप से आसान है।